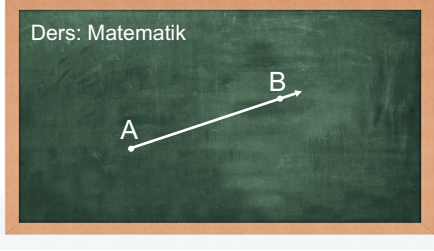


1.



Yukarıdaki yazı tahtasına bir geometrik şekil çizilmiştir.

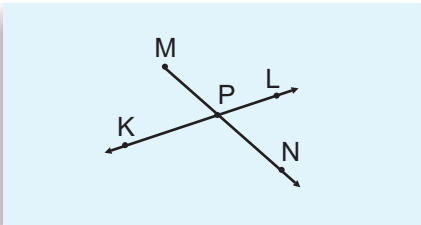
Bu şeklin sembol ile gösterimi aşağıdakilerden hangisidir?

- A) $[AB]$ B) AB C) \overline{AB} D) \overleftrightarrow{AB}

2. Aşağıdaki hangisi sembolle " \overline{AB} " ile gösterilen şekli ifade eder?

- A) AB doğrusu B) AB ışını
C) BA ışını D) AB doğru parçası

3. Aşağıdaki düzlemde KL doğrusu ile MN ışını P noktasında kesişmiştir.



Bu şekilde kaç farklı doğru parçası belirlenebilir?

- A) 3 B) 4 C) 5 D) 6

4. Aşağıda bir savunma şirketinin geliştirdiği lazer silahının fotoğrafı verilmiştir.



Buna göre bu lazer silahı hangi geometrik şekle örnek gösterilebilir?

- A) Doğru B) Doğru parçası
C) Işın D) Nokta

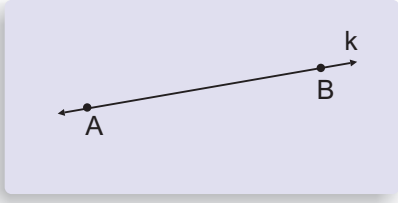
5. Aşağıdaki hangisi " \overleftrightarrow{AB} ışını" şeklinde okunan bir semboldür?

- A) \overline{AB} B) AB
C) AB D) \overleftrightarrow{AB}

6. Aşağıdaki geometrik şekillerin hangisinin sembolle gösterimi yanlış verilmiştir?

- A) \overline{KL} \overline{KL} \overline{KL}
B) \overline{MN} \overline{MN} \overline{MN}
C) \overline{PR} \overline{PR} \overline{PR}
D) \overline{ST} \overline{ST} \overline{ST}

7. Aşağıdaki düzlemde bir k doğrusu verilmiştir.



A ve B noktaları k doğrusu üzerindedir.

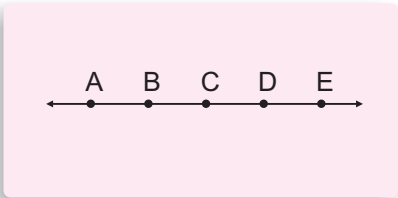
Buna göre sembol ile ifade edilen şekillerden hangisi yukarıdaki şekil içerisinde gösterilemez?

- A) [AB] B) [AB C) AB D) [Bk

8. Aşağıdakilerden hangisi yanlıştır?

- A) Nokta, boyutsuz bir kavramdır.
 B) Işının ve doğrunun uzunluğu ölçülemez.
 C) Doğru, iki nokta arasındaki doğrusal sonsuz sayıdaki noktanın birleşmesi ile oluşur.
 D) Doğru parçası uzunluğu ölçülebilen bir geometrik bir şekildir.

9. Aşağıdaki düzlemde üzerinde bazı noktalar belirtilmiş bir doğru verilmiştir.



Bu doğru üzerinde seçilecek doğru parçalarının hangisinin üzerinde C noktası bulunmaz?

- A) [AE] B) [AD] C) [BE] D) [DE]

- 10.



Başlangıç noktası M olan ve uzunluğu ölçülemeyen bir geometrik şekildir.

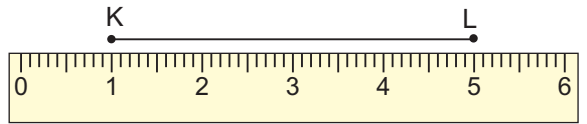
Yukarıda bir öğrenci geometrik bir şekil hakkında bilgi vermiştir.

Bu geometrik şekil aşağıda sembol ile ifade edilenlerden hangisi olabilir?

- A) [MN] B) [KM]
 C) MN D) [MP

www.YepDers.com

11. Aşağıdaki bir doğru parçasının uzunluğu bir cetvel ile ölçülmüştür.



Buna göre KL doğru parçasının uzunluğu aşağıdakilerden hangisi ile belirtilmiştir?

- A) [KL] = 5 br B) |KL| = 5 br
 C) |KL| = 4 br D) [KL] = 4 br



Edu 5 Matematik
Satın Al!

Cevap Anahtarı

